

**Проверочная работа
по ФИЗИКЕ****7 класс****Вариант 1****Инструкция по выполнению работы**

На выполнение работы по физике даётся 45 минут. Работа содержит 11 заданий.

Ответом на каждое из заданий 1, 3–6, 8, 9 является число или несколько чисел. В заданиях 2 и 7 нужно написать текстовый ответ. В заданиях 10 и 11 нужно написать решения задач полностью. В случае записи неверного ответа зачеркните его и запишите рядом новый.

При выполнении работы можно пользоваться непрограммируемым калькулятором.

При необходимости можно пользоваться черновиком. Записи в черновике проверяться и оцениваться не будут.

Советуем выполнять задания в том порядке, в котором они даны. Для экономии времени пропускайте задание, которое не удаётся выполнить сразу, и переходите к следующему. Постарайтесь выполнить как можно больше заданий.

Желаем успеха!

Заполняется учителем, экспертом или техническим специалистом

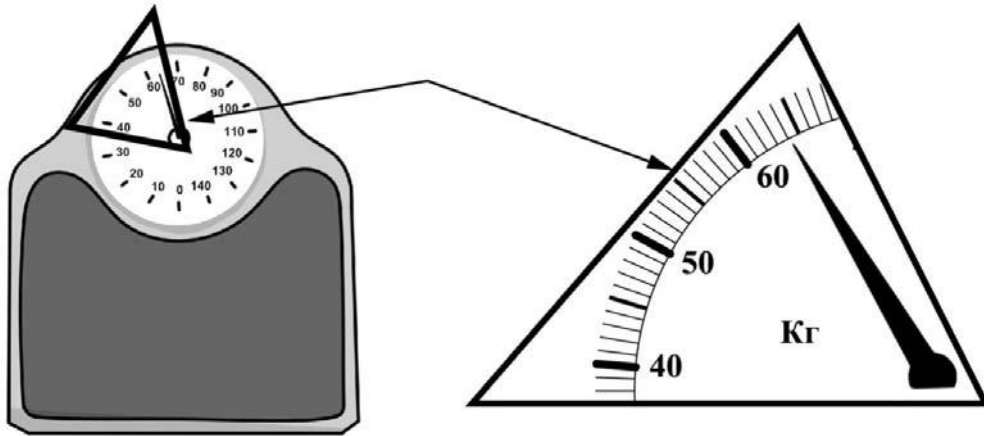
Обратите внимание: в случае, если какие-либо задания не могли быть выполнены целым классом по причинам, связанным с отсутствием соответствующей темы в реализуемой школой образовательной программе, в форме сбора результатов ВПР всем обучающимся класса за данное задание вместо балла выставляется значение «Тема не пройдена». В соответствующие ячейки таблицы заполняется н/п.

Таблица для внесения баллов участника

Номер задания	1	2	3	4	5	6	7	8	9	10	11	Сумма баллов	Отметка за работу
Баллы													

1

Илья готовится к соревнованиям. Максимально допустимая масса спортсмена, выступающего в его весовой категории, составляет 60 кг. Определите минимальное количество килограммов, которое нужно сбросить Илье для того, чтобы его допустили до соревнований.



Ответ: _____ кг.

2

В гололедицу дороги посыпают песком. Величину какой силы хотят увеличить таким способом? Почему эта сила увеличивается при посыпании дороги песком?

Ответ: _____

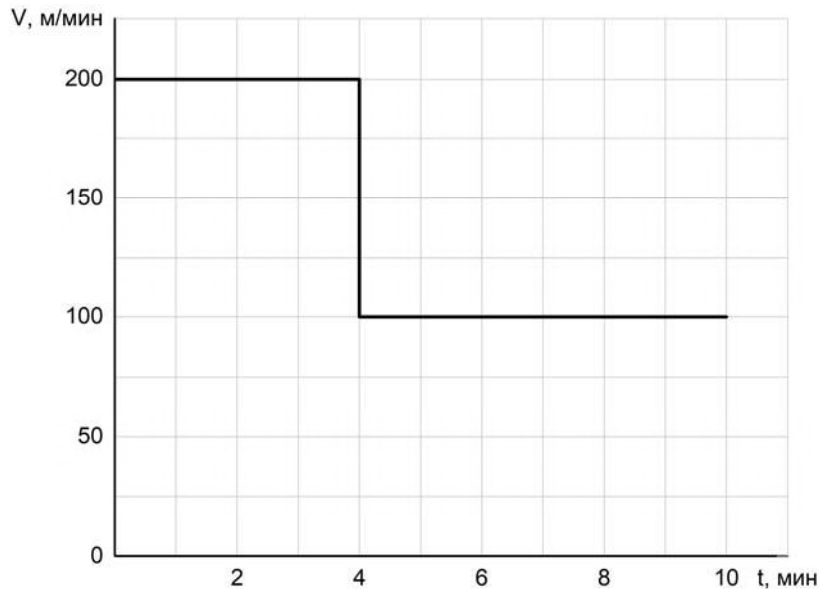
3

После сбора урожая Роман Аркадьевич решил перевезти картошку с дачи в гараж. Загрузив клубни в прицеп, он обнаружил, что прицеп просел на 0,18 м. Определите жёсткость одной пружины подвески прицепа, если масса загруженной картошки 450 кг, а нагрузка распределяется между колёсами поровну. Считайте, что колёс (и пружин в подвеске) у прицепа два.

Ответ: _____ Н/м.

4

Мама позвонила Саше, который гулял с друзьями, и сказала, что ему нужно срочно бежать домой, так как родителям требуется его помощь. Саша бросил все дела и сразу же побежал домой, но через некоторое время устал и стал бежать медленнее. По графику зависимости скорости Саши от времени определите, на сколько уменьшилась скорость бега мальчика после того, как он устал.



Ответ: _____ м/мин.

5

Анатолий заметил, что если он погружается с головой в ванну, изначально заполненную водой на 0,8 объема, то уровень воды доходит до края ванны. Найдите объем Анатолия, если полная ванна вмещает 270 л.

Ответ: _____ л.

6

Какое давление оказывает Миша на горизонтальный пол, когда он ровно стоит, отвечая у доски, если масса Миши 54 кг, а площадь подошвы одного его ботинка равна $0,015 \text{ м}^2$? Ускорение свободного падения 10 Н/кг .

Ответ: _____ кПа.

7

Известно, что солнечные лучи достигают Земли за 8 минут 20 секунд. Скорость света в вакууме 299 792 км/с. Пользуясь таблицей, определите, в каких средах свет пройдет то же самое расстояние менее чем за 10 минут? Ответ кратко поясните.

Скорость света в различных средах	
Среда	Скорость, км/с
Воздух	299 704
Лёд	228 782
Вода	225 341
Стекло	199 803
Кедровое масло	197 174
Кварц	194 613
Рубин	170 386
Алмаз	123 845

Ответ: _____

8

Ходить по рыхлому снегу неудобно, так как ноги всё время проваливаются в него. Если такая прогулка всё же необходима, то используют снегоступы. Какой должна быть минимальная площадь одного снегоступа для того, чтобы человек массой 105 кг проваливался в снег не более чем на 5 см? На рыхлом снегу это условие соблюдается при давлении не более 15 кПа. Учтите, что когда человек делает шаг при ходьбе, то в какие-то промежутки времени он опирается только на одну ногу.



Ответ: _____ м².

9

Половину дистанции велосипедист проехал со скоростью 20 км/ч, следующую треть дистанции – со скоростью 10 км/ч, а последние 20 км он преодолел за час.

- 1) Какова длина дистанции, которую преодолел велосипедист?
- 2) Чему равна средняя скорость велосипедиста на всей дистанции?

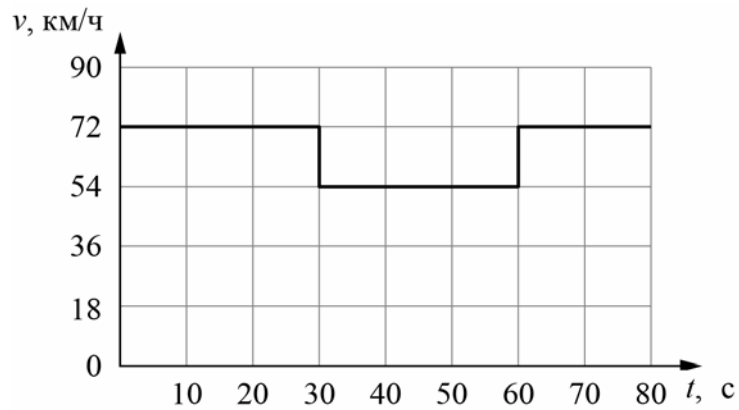
Ответ: 1) _____ км;

2) _____ км/ч.

10

Согласно инструкции для машинистов, если локомотив или хотя бы один вагон поезда движется по мосту, скорость поезда не должна превышать 60 км/ч. Машинист вёл поезд, строго выполняя инструкцию. На рисунке показан график зависимости скорости v движения поезда от времени t .

- 1) Сколько времени поезд ехал по мосту?
 - 2) Определите длину поезда, если длина состава в два раза больше длины моста.
 - 3) Сколько вагонов было в составе, если длина локомотива и каждого вагона поезда $l = 20$ м?
- Ответы на вопросы обоснуйте соответствующими рассуждениями или решением задачи.



Решение:	
<div style="border: 1px solid black; width: 30px; height: 30px; display: inline-block; margin-right: 5px;"></div> Ответ:	

Система оценивания проверочной работы

Правильный ответ на каждое из заданий 1, 3-6, 8 оценивается 1 баллом.

Полный правильный ответ на задание 9 оценивается 2 баллами. Если в ответе допущена одна ошибка (одно из чисел не записано или записано неправильно), выставляется 1 балл; если оба числа записаны неправильно или не записаны – 0 баллов.

№ задания	Ответ
1	4
3	12500
4	100
5	54
6	18
8	0,07
9	120; 15

Решения и указания к оцениванию заданий 2, 7, 10 и 11

2

Решение	
Сила трения. Величина этой силы зависит от качества соприкасающихся поверхностей, и для шероховатых поверхностей она больше.	
Указания к оцениванию	Баллы
Приведён полностью правильный ответ на оба вопроса, содержащий правильное название силы и её правильное описание.	2
В решении имеется один или несколько из следующих недостатков: Приведено только правильное название силы без её описания. ИЛИ Приведено только правильное описание силы без указания её названия. И (ИЛИ) В решении дан ответ на оба вопроса, но имеется неточность в названии силы или в её описании.	1
Все случаи решения, которые не соответствуют вышеуказанным критериям выставления оценок в 1 или 2 балла.	0
<i>Максимальный балл</i>	2

7

Решение	
В воздухе. Время движения обратно пропорционально скорости. Поэтому подойдут те среды, скорость света в которых меньше скорости света в вакууме менее чем в $10:8\frac{1}{3} = 1,2$ раза.	
Указания к оцениванию	Баллы
Приведён полностью правильный ответ на вопрос и дано правильное объяснение.	2
В решении имеется один или несколько из следующих недостатков. Приведён только правильный ответ на вопрос без объяснения. ИЛИ Приведено правильное объяснение, но правильный ответ в явном виде отсутствует. И (ИЛИ) Дан правильный ответ на вопрос, но в объяснении имеется неточность.	1
Все случаи решения, которые не соответствуют вышеуказанным критериям выставления оценок в 1 или 2 балла.	0
<i>Максимальный балл</i>	
	2

10

Решение	
<p>1) Из графика следует, что поезд двигался по мосту от 30 до 60 с, то есть 30 секунд.</p> <p>2) Скорость поезда в этот промежуток времени равнялась $v = 54 \text{ км/ч} = 15 \text{ м/с}$. За это время локомотив поезда прошёл путь $S = v \cdot t = 450 \text{ м}$. Это расстояние складывается из длины моста и длины состава. Так как длина поезда в два раза больше длины моста, длина поезда равна $L = 300 \text{ м}$.</p> <p>3) Определим количество вагонов в поезде, учитывая, что длина каждого вагона и локомотива $l = 20 \text{ м}$. Тогда $N = (L/l) - 1 = 14$ вагонов</p> <p>Допускается другая формулировка рассуждений.</p> <p>1) 30 с; 2) 300 м; 3) 14</p>	
Указания к оцениванию	Баллы
Приведено полное решение, включающее следующие элементы: I) записаны положения теории, физические законы, закономерности, формулы и т.п., <u>применение которых необходимо</u> для решения задачи выбранным способом (в данном случае: <i>связь между пройденным путём, временем движения и скоростью</i>); II) проведены нужные рассуждения, верно осуществлена работа с графиками, схемами, таблицами (при необходимости), сделаны необходимые математические преобразования и расчёты, приводящие к правильному числовому ответу (допускается решение «по частям» с промежуточными вычислениями; часть промежуточных вычислений может быть проведена «в уме»; задача может решаться как в общем виде, так и путём проведения вычислений непосредственно с заданными в условии численными значениями); III) представлен правильный численный ответ на все три вопроса задачи с указанием единиц измерения искомой величины.	3
Приведено полное верное решение (I, II) и дан правильный ответ (III) только для двух пунктов задачи	2
Приведено полное верное решение (I, II) и дан правильный ответ (III) только для одного пункта задачи	1
Все случаи решения, которые не соответствуют вышеуказанным критериям выставления оценок в 1, 2 или 3 балла	0
<i>Максимальный балл</i>	
	3

11

Решение	
<p>1) Расстояние между соответствующими пиками соседних сердечных циклов – 25 мм, учитывая, что скорость ленты 20 мм/с, время между ударами 1,25 с. Поэтому за минуту происходит $60/1,254 = 48$ ударов пульса. <i>Ответ в диапазоне 46–50 ударов/мин следует считать правильным.</i></p> <p>2) Длина интервала <i>PR</i> на записи составляет около 4 мм. Поэтому продолжительность интервала <i>PR</i> примерно равна $(5 \text{ мм})/(20 \text{ мм/с}) \approx 0,25 \text{ с}$. <i>Ответ в пределах (0,20 с; 0,30 с) следует считать правильным.</i></p> <p>3) Длина ленты $\approx 124 \text{ мм}$, что соответствует продолжительности фрагмента $\approx 6,2 \text{ с}$. Допускается другая формулировка рассуждений и отклонение числовых ответов из-за округления при снятии координат с рисунка. Ответ: 48 ударов в минуту; 0,25 с; $\approx 6,2 \text{ с}$.</p>	
Указания к оцениванию	Баллы
<p>Приведено полное решение, включающее следующие элементы: I) записаны положения теории, физические законы, закономерности, формулы и т.п., <u>применение которых необходимо</u> для решения задачи выбранным способом (в данном случае: <i>связь между скоростью, временем движения и пройденным за это время путём; продемонстрировано умение определять величину при её прямом измерении</i>); II) проведены нужные рассуждения, верно осуществлена работа с графиками, схемами, таблицами (при необходимости), сделаны необходимые математические преобразования и расчёты, приводящие к правильному числовому ответу (допускается решение «по частям» с промежуточными вычислениями; часть промежуточных вычислений может быть проведена «в уме»; задача может решаться как в общем виде, так и путём проведения вычислений непосредственно с заданными в условии численными значениями); III) представлен правильный численный ответ на все три вопроса задачи с указанием единиц измерения искомой величины.</p>	3
Приведено полное верное решение (I, II) и дан правильный ответ (III) только для двух пунктов задачи	2
Приведено полное верное решение (I, II) и дан правильный ответ (III) только для одного пункта задачи	1
Все случаи решения, которые не соответствуют вышеуказанным критериям выставления оценок в 1, 2 или 3 балла	0
<i>Максимальный балл</i>	
	3

Система оценивания выполнения всей работы

Максимальный первичный балл за выполнение работы – **18**.

Рекомендуемая таблица перевода баллов в отметки по пятибалльной шкале

Отметка по пятибалльной шкале	«2»	«3»	«4»	«5»
Первичные баллы	0–4	5–7	8–10	11–18

**Проверочная работа
по ФИЗИКЕ**

7 класс

Вариант 2

Инструкция по выполнению работы

На выполнение работы по физике даётся 45 минут. Работа содержит 11 заданий.

Ответом на каждое из заданий 1, 3–6, 8, 9 является число или несколько чисел. В заданиях 2 и 7 нужно написать текстовый ответ. В заданиях 10 и 11 нужно написать решения задач полностью. В случае записи неверного ответа зачеркните его и запишите рядом новый.

При выполнении работы можно пользоваться непрограммируемым калькулятором.

При необходимости можно пользоваться черновиком. Записи в черновике проверяться и оцениваться не будут.

Советуем выполнять задания в том порядке, в котором они даны. Для экономии времени пропускайте задание, которое не удаётся выполнить сразу, и переходите к следующему. Постарайтесь выполнить как можно больше заданий.

Желаем успеха!

Заполняется учителем, экспертом или техническим специалистом

Обратите внимание: в случае, если какие-либо задания не могли быть выполнены целым классом по причинам, связанным с отсутствием соответствующей темы в реализуемой школой образовательной программе, в форме сбора результатов ВПР всем обучающимся класса за данное задание вместо балла выставляется значение «Тема не пройдена». В соответствующие ячейки таблицы заполняется н/п.

Таблица для внесения баллов участника

Номер задания	1	2	3	4	5	6	7	8	9	10	11	Сумма баллов	Отметка за работу
Баллы													

1

Занятия по физике у Тони начинаются ровно в 15:00. Перед тем как войти в класс, она посмотрела на настенные часы в школьном коридоре. На сколько секунд Тоня опоздала на занятия?



Ответ: _____ с.

2

Катаясь на велосипеде, мы разгоняемся, прикладывая усилие к педалям и раскручивая тем самым колёса. Но, выехав на ровный участок дороги, мы можем некоторое время не крутить педали, а велосипед при этом будет катиться сам собой. На каком механическом свойстве тел основано это явление? В чём состоит это свойство?

Ответ: _____

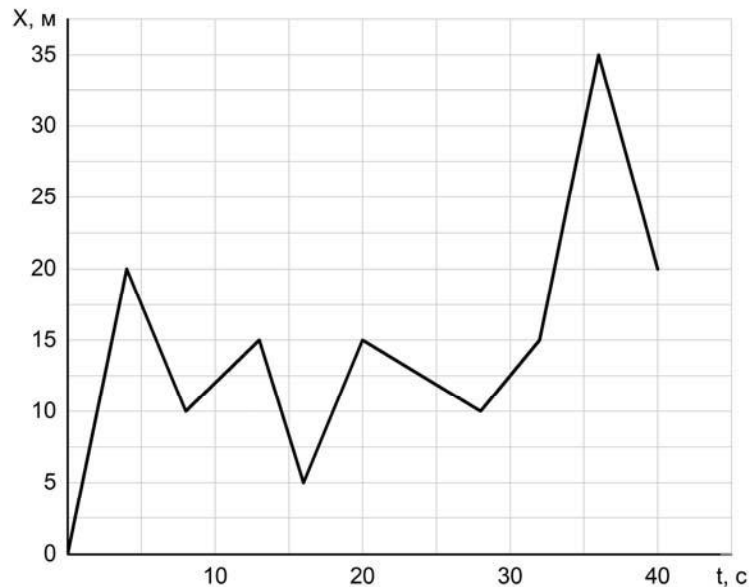
3

Ивану необходимо добраться на машине из Москвы в Санкт-Петербург за 11 часов. С какой минимальной средней скоростью он должен ехать, если длина выбранной им дороги 704 км?

Ответ: _____ км/ч.

4

Игорь гуляет с собакой, которая бежит по прямой дорожке в парке. Пользуясь графиком зависимости координаты собаки от времени, определите её координату через 40 секунд.



Ответ: _____ м.

5

Играя в кондитерский магазин, подружки взвешивали на рычажных весах две шоколадные плитки одинакового размера (без обёрток). Для того чтобы уравновесить первую плитку шоколада, им понадобились одна гирька массой 40 грамм и две гирьки массами по 10 грамм каждая. Для взвешивания второй плитки им понадобились одна гирька массой 40 грамм, одна массой 20 грамм и одна массой 10 грамм. Подружки сообразили, что один шоколад был пористым, а второй — более плотным. Чему была равна масса плитки пористого шоколада?

Ответ: _____ г.

6

Направляясь на день рождения к Насте, Дима купил в магазине связку из 11 воздушных шаров. Но, выйдя на улицу, он обнаружил, что из-за низкой температуры на улице объём шариков уменьшился. Дима предположил, что плотность газа в шариках при охлаждении увеличилась в 1,1 раза. Определите, на сколько литров уменьшился при этом суммарный объём шаров, если предположение Димы верно, а исходный объём одного шарика был равен 5 л?

Ответ: _____ л.

7

Группе туристов нужно было пройти за день по просёлочной дороге 20 км. Они шли без остановок, поскольку опасались, что опоздают на поезд. Один из туристов, глядя на километровые столбы у дороги и на свои часы, записывал в блокнот, какое расстояние прошла группа, и сколько времени прошло с момента начала пути.

Пройденное расстояние, км	Время движения, мин.
4	50
8	100
12	150
16	200
20	250

Изучите записи и определите, можно ли по имеющимся данным рассматривать движение группы как равномерное или нет?

Ответ: _____

8

Вася решил попробовать определить внутренний объём надутого воздушного шарика – наполнить его водой и измерить объём этой воды. Выяснилось, что надуть шарик водой не так-то просто, поскольку он не растягивается под её весом. Поэтому Вася начал заливать в шарик воду через вертикальную трубку, как показано на рисунке. Известно, что минимальное дополнительное давление, которое нужно создать для надувания шарика, составляет 13 кПа. Какой минимальной длины трубку надо взять Васе для того, чтобы исполнить свой план? Плотность воды 1000 кг/м^3 .



Ответ: _____ м.

9

Некоторые люди любят пить ароматизированный травяной чай и используют для его приготовления разведённую в воде густую вытяжку из душицы и мать-и-мачехи. Плотность травяной вытяжки $1,3 \text{ г/см}^3$, плотность воды 1 г/см^3 . Для приготовления раствора смешали одинаковые объёмы воды и травяной вытяжки.

- 1) Определите массу использованной травяной вытяжки, если её объём равен 50 мл.
- 2) Найдите плотность полученного раствора, если его объём равен сумме объёмов исходных компонентов.

Ответ: 1) _____ г;

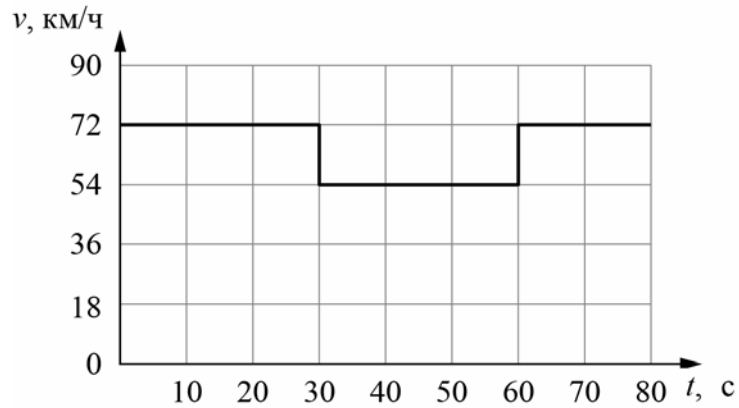
2) _____ г/см^3 .

10

Согласно инструкции для машинистов, если локомотив или хотя бы один вагон поезда движется по мосту, скорость поезда не должна превышать 60 км/ч. Машинист вёл поезд, строго выполняя инструкцию. На рисунке показан график зависимости скорости v движения поезда от времени t .

- 1) Сколько времени машинист ехал по мосту?
- 2) Определите длину поезда, если длина состава в два раза больше длины моста.
- 3) Сколько вагонов было в составе, если длина локомотива и каждого вагона поезда $l = 12,5$ м?

Ответы на вопросы обоснуйте соответствующими рассуждениями или решением задачи.



Решение:	
<div style="border: 1px solid black; width: 30px; height: 30px; display: inline-block; margin-right: 5px;"></div> Ответ:	

Система оценивания проверочной работы

Правильный ответ на каждое из заданий 1, 3-6, 8 оценивается 1 баллом.

Полный правильный ответ на задание 9 оценивается 2 баллами. Если в ответе допущена одна ошибка (одно из чисел не записано или записано неправильно), выставляется 1 балл; если оба числа записаны неправильно или не записаны – 0 баллов.

№ задания	Ответ
1	95
3	64
4	20
5	60
6	5
8	1,3
9	65; 1,15

Решения и указания к оцениванию заданий 2, 7, 10 и 11

2

Решение		
Данное явление основано на использовании свойства инертности. Это свойство состоит в стремлении тел сохранять состояние своего покоя или движения.		
Указания к оцениванию		Баллы
Приведён полностью правильный ответ на оба вопроса, содержащий название свойства и его правильное описание .		2
В решении имеется один или несколько из следующих недостатков: Приведено только правильное название свойства без его описания. ИЛИ Приведено только правильное описание свойства без указания его названия. И (ИЛИ) В решении дан ответ на оба вопроса, но имеется неточность в названии свойства или в его описании.		1
Все случаи решения, которые не соответствуют вышеуказанным критериям выставления оценок в 1 или 2 балла.		0
<i>Максимальный балл</i>		2

7

Решение	
Да. При равномерном движении за любые равные промежутки времени тело проходит равные пути.	
Указания к оцениванию	Баллы
Приведён полностью правильный ответ на вопрос и дано правильное объяснение.	2
В решении имеется один или несколько из следующих недостатков. Приведён только правильный ответ на вопрос без объяснения. ИЛИ Приведено правильное объяснение, но правильный ответ в явном виде отсутствует. И (ИЛИ) Дан правильный ответ на вопрос, но в объяснении имеется неточность.	1
Все случаи решения, которые не соответствуют вышеуказанным критериям выставления оценок в 1 или 2 балла.	0
<i>Максимальный балл</i>	
	2

10

Решение	
<p>1) Из графика следует, что поезд двигался по мосту от 30 до 60 с, то есть 30 секунд.</p> <p>2) Скорость поезда в этот промежуток времени равнялась $v = 54 \text{ км/ч} = 15 \text{ м/с}$. За это время локомотив поезда прошёл путь $S = v \cdot t = 450 \text{ м}$. Это расстояние складывается из длины моста и длины состава. Так как длина поезда в два раза больше длины моста, длина поезда равна $L = 300 \text{ м}$.</p> <p>3) Определим количество вагонов в поезде, учитывая, что длина каждого вагона и локомотива $l = 12,5 \text{ м}$. Тогда $N = (L/l) - 1 = 23$ вагонов.</p> <p>Допускается другая формулировка рассуждений. Ответ: 1) 30 с; 2) 300 м; 3) 23</p>	
Указания к оцениванию	Баллы
Приведено полное решение, включающее следующие элементы: I) записаны положения теории, физические законы, закономерности, формулы и т.п., <u>применение которых необходимо</u> для решения задачи выбранным способом (в данном случае: <i>связь между пройденным путём, временем движения и скоростью</i>); II) проведены нужные рассуждения, верно осуществлена работа с графиками, схемами, таблицами (при необходимости), сделаны необходимые математические преобразования и расчёты, приводящие к правильному числовому ответу (допускается решение «по частям» с промежуточными вычислениями; часть промежуточных вычислений может быть проведена «в уме»; задача может решаться как в общем виде, так и путём проведения вычислений непосредственно с заданными в условии численными значениями); III) представлен правильный численный ответ на все три вопроса задачи с указанием единиц измерения искомой величины.	3
Приведено полное верное решение (I, II) и дан правильный ответ (III) только для двух пунктов задачи	2
Приведено полное верное решение (I, II) и дан правильный ответ (III) только для одного пункта задачи	1
Все случаи решения, которые не соответствуют вышеуказанным критериям выставления оценок в 1, 2 или 3 балла	0
<i>Максимальный балл</i>	
	3

11

Решение	
<p>Рассмотрим чертёж.</p> <p>1) У вагона четыре колеса. Поэтому в поезде $56/4 = 14$ вагонов.</p> <p>2) Длина вагона примерно равна 24,5 м. Вдоль всего состава обходчик проходит за 4 мин = 240 с. Значит, длина поезда примерно равна 343 м, а средняя скорость обходчика примерно равна $343 \text{ м} / 240 \text{ с} = 1,43 \text{ м/с}$.</p> <p>3) Минимальное расстояние между осями двух соседних колёс равно 2,4 м. Поэтому минимальный интервал времени между слышимыми ударами равен $2,4 \text{ м} / 1,43 \text{ м/с} = 1,68 \text{ с}$.</p> <p>Ответ: 14 вагонов; 1,43 м/с; 1,68 с.</p> <p>Допускается другая формулировка рассуждений.</p>	
Указания к оцениванию	Баллы
<p>Приведено полное решение, включающее следующие элементы:</p> <p>I) записаны положения теории, физические законы, закономерности, формулы и т.п., <u>применение которых необходимо</u> для решения задачи выбранным способом (в данном случае: <i>связь между скоростью, временем движения и пройденным за это время путём</i>);</p> <p>II) проведены нужные рассуждения, верно осуществлена работа с графиками, схемами, таблицами (при необходимости), сделаны необходимые математические преобразования и расчёты, приводящие к правильному числовому ответу (допускается решение «по частям» с промежуточными вычислениями; часть промежуточных вычислений может быть проведена «в уме»; задача может решаться как в общем виде, так и путём проведения вычислений непосредственно с заданными в условии численными значениями);</p> <p>III) представлен правильный численный ответ на все три вопроса задачи с указанием единиц измерения искомой величины.</p>	3
Приведено полное верное решение (I, II) и дан правильный ответ (III) только для двух пунктов задачи	2
Приведено полное верное решение (I, II) и дан правильный ответ (III) только для одного пункта задачи	1
Все случаи решения, которые не соответствуют вышеуказанным критериям выставления оценок в 1, 2 или 3 балла	0
<i>Максимальный балл</i>	<i>3</i>

Система оценивания выполнения всей работы

Максимальный первичный балл за выполнение работы – **18**.

Рекомендуемая таблица перевода баллов в отметки по пятибалльной шкале

Отметка по пятибалльной шкале	«2»	«3»	«4»	«5»
Первичные баллы	0–4	5–7	8–10	11–18