

Контрольные измерительные материалы единого государственного экзамена 2024 года по ФИЗИКЕ

Инструкция по выполнению работы

Для выполнения экзаменационной работы по физике отводится 3 часа 55 минут (235 минут). Работа состоит из двух частей, включающих в себя 26 заданий.

В заданиях 1–4, 7, 8, 11–13 и 16 ответом является целое число или конечная десятичная дробь. Ответ запишите в поле ответа в тексте работы, а затем перенесите по приведённому ниже образцу в бланк ответа № 1. Единицы измерения физических величин писать не нужно.

КИМ Ответ: -2,5 м/с². Бланк

Ответом к заданиям 5, 6, 9, 10, 14, 15, 17, 18 и 20 является последовательность цифр. В заданиях 5, 9, 14 и 18 предполагается два или три верных ответа. Ответ запишите в поле ответа в тексте работы, а затем перенесите по приведённому ниже образцу без пробелов, запятых и других дополнительных символов в бланк ответов № 1.

КИМ Ответ:

А	Б
4	1

 Бланк

Ответом к заданию 19 являются два числа. Ответ запишите в поле ответа в тексте работы, а затем перенесите по приведённому ниже образцу, не разделяя числа пробелом, в бланк ответов № 1.

КИМ Ответ: (1,4 ± 0,2) Н. Бланк

Ответ к заданиям 21–26 включает в себя подробное описание всего хода выполнения задания. В бланке ответов № 2 укажите номер задания и запишите его полное решение.

При вычислениях разрешается использовать непрограммируемый калькулятор.

Все бланки ЕГЭ заполняются яркими чёрными чернилами. Допускается использование гелевой или капиллярной ручки.

При выполнении заданий можно пользоваться черновиком. **Записи в черновике, а также в тексте контрольных измерительных материалов не учитываются при оценивании работы.**

Баллы, полученные Вами за выполненные задания, суммируются. Постарайтесь выполнить как можно больше заданий и набрать наибольшее количество баллов.

После завершения работы проверьте, чтобы ответ на каждое задание в бланках ответов № 1 и № 2 был записан под правильным номером.

Желаем успеха!

Ниже приведены справочные данные, которые могут понадобиться Вам при выполнении работы.

Десятичные приставки

Наименование	Обозначение	Множитель	Наименование	Обозначение	Множитель
гига	Г	10 ⁹	санти	с	10 ⁻²
мега	М	10 ⁶	милли	м	10 ⁻³
кило	к	10 ³	микро	мк	10 ⁻⁶
гекто	г	10 ²	нано	н	10 ⁻⁹
деци	д	10 ⁻¹	пико	п	10 ⁻¹²

Константы

число π	π = 3,14
ускорение свободного падения на Земле	g = 10 м/с ²
гравитационная постоянная	G = 6,7 · 10 ⁻¹¹ Н · м ² /кг ²
универсальная газовая постоянная	R = 8,31 Дж/(моль · К)
постоянная Больцмана	k = 1,38 · 10 ⁻²³ Дж/К
постоянная Авогадро	N _A = 6 · 10 ²³ моль ⁻¹
скорость света в вакууме	c = 3 · 10 ⁸ м/с
коэффициент пропорциональности в законе Кулона	k = $\frac{1}{4\pi\epsilon_0}$ = 9 · 10 ⁹ Н · м ² /Кл ²
модуль заряда электрона (элементарный электрический заряд)	e = 1,6 · 10 ⁻¹⁹ Кл
постоянная Планка	h = 6,6 · 10 ⁻³⁴ Дж · с

Соотношение между различными единицами

температура	0 К = -273°С
атомная единица массы	1 а.е.м. = 1,66 · 10 ⁻²⁷ кг
1 атомная единица массы эквивалента	931,5 МэВ
1 электронвольт	1 эВ = 1,6 · 10 ⁻¹⁹ Дж

Масса частиц

электрона	9,1 · 10 ⁻³¹ кг ≈ 5,5 · 10 ⁻⁴ а.е.м.
протона	1,673 · 10 ⁻²⁷ кг ≈ 1,007 а.е.м.
нейтрона	1,675 · 10 ⁻²⁷ кг ≈ 1,008 а.е.м.

Плотность

воды	1000 кг/м ³	подсолнечного масла	900 кг/м ³
древеси́ны (сосна)	400 кг/м ³	алюминия	2700 кг/м ³
керосина	800 кг/м ³	железа	7800 кг/м ³
		ртути	13600 кг/м ³

Удельная теплоёмкость

воды	4,2 · 10 ³ Дж/(кг · К)	алюминия	900 Дж/(кг · К)
льда	2,1 · 10 ³ Дж/(кг · К)	меди	380 Дж/(кг · К)
железа	460 Дж/(кг · К)	чугуна	500 Дж/(кг · К)
свинца	130 Дж/(кг · К)		

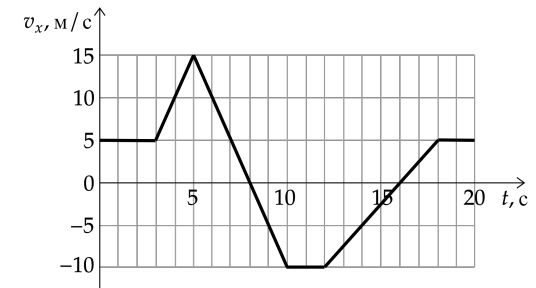
Удельная теплота			
парообразования воды		$2,3 \cdot 10^6$ Дж/кг	
плавления свинца		$2,5 \cdot 10^4$ Дж/кг	
плавления льда		$3,3 \cdot 10^5$ Дж/кг	
Нормальные условия: давление — 10^5 Па, температура — 0°C			
Молярная масса			
азота	$28 \cdot 10^{-3}$ кг/моль	гелия	$4 \cdot 10^{-3}$ кг/моль
аргона	$40 \cdot 10^{-3}$ кг/моль	кислорода	$32 \cdot 10^{-3}$ кг/моль
водорода	$2 \cdot 10^{-3}$ кг/моль	лития	$6 \cdot 10^{-3}$ кг/моль
воздуха	$29 \cdot 10^{-3}$ кг/моль	неона	$20 \cdot 10^{-3}$ кг/моль
воды	$18 \cdot 10^{-3}$ кг/моль	углекислого газа	$44 \cdot 10^{-3}$ кг/моль

Часть 1

Ответами к заданиям 1–20 являются число или последовательность цифр. Ответ запишите в поле ответа в тексте работы, а затем перенесите в БЛАНК ОТВЕТОВ №1 справа от номера соответствующего задания, начиная с первой клеточки. Каждый символ пишете в отдельной клеточке в соответствии с приведёнными в бланке образцами. Единицы измерения физических величин писать не нужно.

1

Тело движется вдоль оси Ox . На рисунке приведён график зависимости проекции v_x скорости тела от времени t .

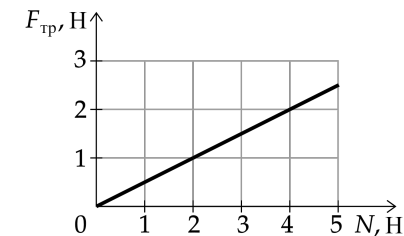


Определите проекцию a_x ускорения этого тела в интервале времени от 8 до 10 с.

Ответ: _____ м/с².

2

На графике приведена зависимость модуля силы трения скольжения от модуля силы нормального давления. Каков коэффициент трения?



Ответ: _____.

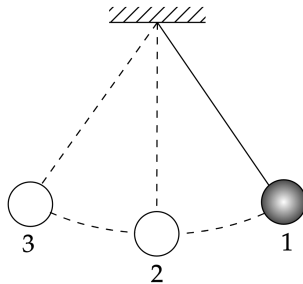
- 3** Тело массой 600 г, брошенное вертикально вверх с поверхности Земли, поднялось на максимальную высоту, равную 8 м. Какой кинетической энергией обладало тело в момент броска? Сопротивлением воздуха пренебречь.

Ответ: _____ Дж.

- 4** Куб из материала плотностью 3500 кг/м^3 и объёмом 600 см^3 полностью погружён в воду. Определите силу Архимеда, действующую на куб.

Ответ: _____ Н.

- 5** Математический маятник с частотой свободных колебаний 0,5 Гц отклонили на небольшой угол от положения равновесия в положение 1 и отпустили из состояния покоя (см. рисунок).



Сопротивлением воздуха пренебречь. Потенциальная энергия маятника отсчитывается от положения равновесия.

Из приведённого ниже списка выберите все верные утверждения, описывающие процесс колебаний маятника.

- 1) Потенциальная энергия маятника в первый раз достигнет своего максимума через 2 с после начала движения.
- 2) Через 0,5 с маятник первый раз вернётся в положение 1.
- 3) При движении из положения 2 в положение 3 полная механическая энергия маятника остаётся неизменной.
- 4) Кинетическая энергия маятника в первый раз достигнет своего максимума через 0,5 с после начала движения.
- 5) При движении из положения 3 в положение 2 модуль силы натяжения нити увеличивается.

Ответ: _____

- 6** В результате перехода искусственного спутника Земли с одной круговой орбиты на другую его центростремительное ускорение уменьшается. Как изменятся в результате этого перехода высота орбиты спутника и период его обращения вокруг Земли?

Для каждой величины определите соответствующий характер изменения:

- 1) увеличивается
- 2) уменьшается
- 3) не изменяется

Запишите в таблицу выбранные цифры для каждой физической величины. Цифры в ответе могут повторяться.

Высота орбиты спутника	Период обращения спутника вокруг Земли

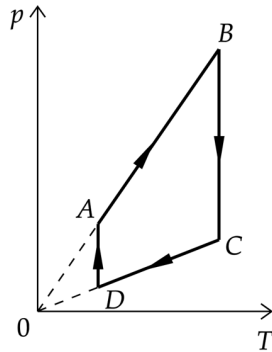
- 7** Во сколько раз увеличится давление разреженного одноатомного газа, если при увеличении концентрации молекул газа в 3 раза его абсолютная температура увеличится в 2 раза?

Ответ: в _____ раз(а).

- 8** Рабочее тело тепловой машины за цикл совершает работу 45 Дж. Какое количество теплоты отдаёт холодильнику рабочее тело, если КПД тепловой машины равен 15%?

Ответ: _____ Дж.

9 На рисунке показан график циклического процесса, проведённого с одноатомным идеальным газом, в координатах $p \sim T$, где p – давление газа, T – абсолютная температура газа. Количество вещества газа постоянно.



Из приведённого ниже списка выберите все правильные утверждения по поводу этой ситуации.

- 1) Газ за цикл совершает отрицательную работу.
- 2) В процессе AB газ получает положительное количество теплоты.
- 3) В процессе BC внутренняя энергия газа не изменяется.
- 4) В процессе CD над газом совершают работу внешние силы.
- 5) В процессе DA газ изотермически расширяется.

Ответ: _____

10 В сосуде неизменного объёма находилась при комнатной температуре смесь двух идеальных газов, по 2 моль каждого. Половину содержимого сосуда выпустили, а затем добавили в сосуд 1 моль первого газа. Температура в сосуде поддерживалась неизменной. Как изменились в результате парциальное давление первого газа и суммарное давление смеси газов?

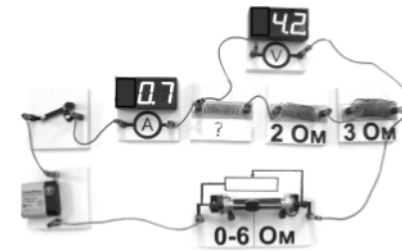
Для каждой величины определите соответствующий характер изменения:

- 1) увеличилось
- 2) уменьшилось
- 3) не изменилось

Запишите в таблицу выбранные цифры для каждой физической величины. Цифры в ответе могут повторяться.

Парциальное давление первого газа	Давление смеси газов

11 На фотографии представлена электрическая цепь. Показания вольтметра даны в вольтах, амперметра – в амперах.



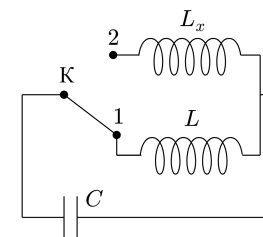
Чему равно сопротивление неизвестного резистора? Вольтметр и амперметр считать идеальными.

Ответ: _____ Ом.

12 Какова сила тока в катушке индуктивностью 0,8 Гн, если энергия магнитного поля в ней равна 0,9 Дж?

Ответ: _____ А.

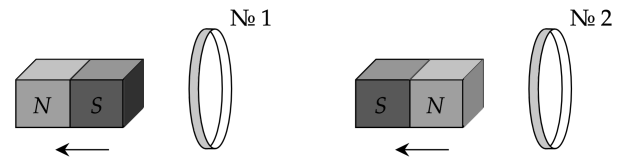
13 Индуктивность катушки идеального колебательного контура $L = 0,1$ Гн. Какой должна быть индуктивность L_x катушки в контуре (см. рисунок), чтобы при переводе ключа K из положения 1 в положение 2 частота собственных электромагнитных колебаний в контуре уменьшилась в 3 раза?



Ответ: _____ Гн.

14

От деревянного кольца № 1 отодвигают южный полюс полосового магнита, а от медного кольца № 2 – северный полюс такого же магнита (см. рисунок).



Из приведённого ниже списка выберите все верные утверждения относительно этих опытов.

- 1) Кольцо №1 отталкивается от магнита.
- 2) В кольце №1 не возникает индукционный ток.
- 3) Модуль магнитного потока через кольцо №2 увеличивается.
- 4) Модуль магнитного потока через кольцо №1 не меняется.
- 5) Кольцо №2 следует за магнитом.

Ответ: _____ .

15

Ион натрия движется по окружности в однородном магнитном поле. Как изменятся сила, действующая на ион в магнитном поле, и частота его обращения, если уменьшить модуль вектора магнитной индукции магнитного поля? Скорость иона остаётся неизменной.

Для каждой величины определите соответствующий характер изменения:

- 1) увеличится
- 2) уменьшится
- 3) не изменится

Запишите в таблицу выбранные цифры для каждой физической величины. Цифры в ответе могут повторяться.

Сила, действующая на ион в магнитном поле	Частота обращения иона

16

Сколько нейтронов содержится в ядре изотопа висмута ${}_{83}^{208}Bi$?

Ответ: _____

17

Как изменятся при β^- -распаде массовое число ядра и число протонов в ядре?

Для каждой величины определите соответствующий характер изменения:

- 1) увеличится
- 2) уменьшится
- 3) не изменится

Запишите в таблицу выбранные цифры для каждой физической величины. Цифры в ответе могут повторяться.

Массовое число ядра	Число протонов в ядре

18

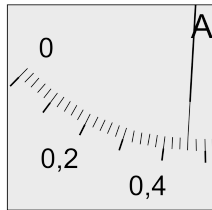
Выберите все верные утверждения о физических явлениях, величинах и закономерностях. Запишите цифры, под которыми они указаны.

- 1) При вынужденных механических колебаниях в колебательной системе резонанс возникает в том случае, если собственная частота колебаний системы превышает частоту изменения внешней силы.
- 2) В процессе изохорного нагревания постоянной массы газа давление газа увеличивается.
- 3) Поверхность проводника, находящегося в электростатическом поле, не является эквипотенциальной.
- 4) При преломлении света при переходе из одной среды в другую изменяются скорость волны и частота, а длина её волны остаётся неизменной.
- 5) Энергия связи ядра равна той энергии, которую необходимо затратить для того, чтобы разделить это ядро на отдельные протоны и нейтроны.

Ответ: _____ .

19

Определите показания амперметра (см. рисунок), если абсолютная погрешность прямого измерения силы тока равна цене деления амперметра.



Ответ: (_____ ± _____) А.

В бланк ответов № 1 перенесите только числа, не разделяя их пробелом или другим знаком.

20

Необходимо на опыте обнаружить зависимость объёма газа, находящегося в сосуде под подвижным поршнем, от температуры. Имеются пять различных сосудов с манометрами. Сосуды наполнены одним и тем же газом при различных температурах и давлениях (см. таблицу). Какие два сосуда необходимо взять ученику, чтобы провести данное исследование?

№ сосуда	Давление, кПа	Температура газа в сосуде, °C	Масса газа, г
1	60	80	10
2	60	100	10
3	80	60	5
4	90	80	15
5	100	60	5

В ответе запишите номера выбранных сосудов.

Ответ:



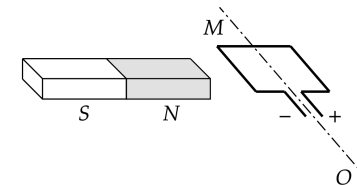
Не забудьте перенести все ответы в бланк ответов №1 в соответствии с инструкцией по выполнению работы. Проверьте, чтобы каждый ответ был записан в строке с номером соответствующего задания.

Часть 2

Для записи ответов на задания 21–26 используйте БЛАНК ОТВЕТОВ № 2. Запишите сначала номер задания (21, 22 и т.д.), а затем решение соответствующей задачи. Ответы записывайте чётко и разборчиво.

21

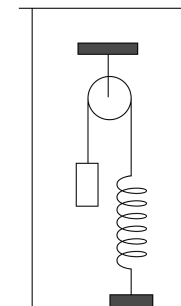
Рамку с постоянным током удерживают неподвижно в поле полосового магнита (см. рисунок). Полярность подключения источника тока к выводам рамки показана на рисунке. Как будет двигаться рамка на неподвижной оси МО, если рамку не удерживать? Ответ поясните, указав, какие физические закономерности вы использовали для объяснения. Считать, что рамка испытывает небольшое сопротивление движению со стороны воздуха.



Полное правильное решение каждой из задач 22–26 должно содержать законы и формулы, применение которых необходимо и достаточно для решения задачи, а также математические преобразования, расчёты с численным ответом и при необходимости рисунок, поясняющий решение.

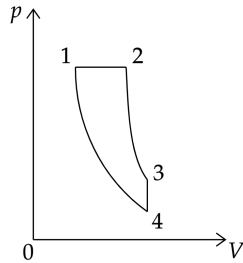
22

В сосуде (см. рисунок) находится система тел, состоящая из блока с перекинутой через него нитью, к концам которой привязаны тело объёмом V и пружина жёсткостью k . Нижний конец пружины прикреплен ко дну сосуда. Как изменится сила натяжения нити, действующая на пружину, если эту систему целиком погрузить в жидкость плотностью ρ ? (Считать, что трение в оси блока отсутствует.)

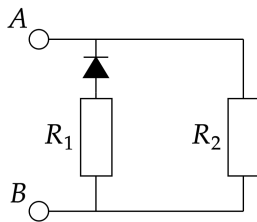


23 В кастрюле находится 0,5 кг воды температурой 10°C . Сколько потребуется времени, чтобы при помощи кипятильника мощностью 400 Вт выпарить 15% воды из кастрюли? Потерями тепла и теплоёмкостью кастрюли пренебречь.

24 Тепловой двигатель использует в качестве рабочего вещества 1 моль идеального одноатомного газа. Цикл работы двигателя изображен на $p - V$ диаграмме и состоит из двух адиабат, изохоры и изобары. Зная, что КПД этого цикла $\eta = 15\%$, а минимальная и максимальная температуры газа при изохорном процессе $t_{\min} = 37^\circ\text{C}$ и $t_{\max} = 302^\circ\text{C}$ определите количество теплоты, получаемое газом за цикл.



25 В цепи, изображённой на рисунке, сопротивление диода в прямом направлении пренебрежимо мало, а в обратном многократно превышает сопротивление резисторов. При подключении к точке А положительного полюса, а к точке В отрицательного полюса батареи с ЭДС 12 В и пренебрежимо малым внутренним сопротивлением потребляемая мощность равна 14,4 Вт. При изменении полярности подключения батареи потребляемая мощность оказалась равной 21,6 Вт. Укажите, как течёт ток через диод и резисторы в обоих случаях, и определите сопротивления резисторов в этой цепи.



26 Пластилинный шарик в момент $t = 0$ бросают с горизонтальной поверхности Земли с начальной скоростью v_0 под углом α к горизонту. Одновременно с некоторой высоты над поверхностью Земли начинает падать из состояния покоя другой такой же шарик. Шарик абсолютно неупруго сталкиваются в воздухе. Сразу после столкновения скорость шариков направлена горизонтально. В какой момент времени τ шарик упадут на Землю? Сопротивлением воздуха пренебречь. Какие законы Вы использовали для описания движения шариков? Обоснуйте их применимость к данному случаю.



Проверьте, чтобы каждый ответ был записан рядом с правильным номером задания.